




Naam:

Nr.

1 Ga je mee boodschappen doen?

In de vakantie gaat Louise elke dag voor mama naar de winkel. Op de kassickets zie je wat ze telkens koopt. Reken uit hoeveel ze moet betalen en hoeveel ze terugkrijgt.



Dit betaalt betaalt Louise telkens met een briefje van 5 euro.

POT CHOCO
FLES MELK
BROOD
TOTAAL:
TERUG:

FLES LIMONADE
PAK SUIKER
DOOS CORNFLAKES
TOTAAL:
TERUG:

20 EIEREN
BRIK APPELSAP
DOOSJE SNEERKAAS
TOTAAL:
TERUG:


Voor deze aankopen kreeg ze van mama elke keer een briefje van 10 euro mee.

2 KG APPELS
PAKJE BOTER
ZAK CHIPS
TOTAAL:
TERUG:

10 EIEREN
DWEIL
2 PAKKEN WC-PAPIER
BROOD
TOTAAL:
TERUG:

2 BRIKKEN APPELSAP
POT CHOCO
AFWASMIDDEL
1 KG APPELS
6 BANANEN
TOTAAL:
TERUG:

2 Meet de omtrek en de oppervlakte van deze doolhof.



De omtrek van deze figuur is

.....

De oppervlakte van deze figuur is

.....



Naam:


Nr.

3 Getallen zeven

Ga als volgt te werk:

- Omkring 2. Schrap verder alle veelvouden van 2.
- Omkring 3. Schrap verder alle veelvouden van 3.
- Omkring 5. Schrap verder alle veelvouden van 5.
- Omkring nu alle getallen die je nog niet geschrapt hebt.

1	2	3	4	5	6	7	8	9	10
11	12	13	14	15	16	17	18	19	20



Hoeveel delers hebben de omringde getallen elk?

Getallen met juist delers noemen we **priemgetallen**.

Ze zijn enkel deelbaar door 1 en door zichzelf.

4 Zorg ervoor dat de rekening klopt. Vul de cijfers op de stippen aan.

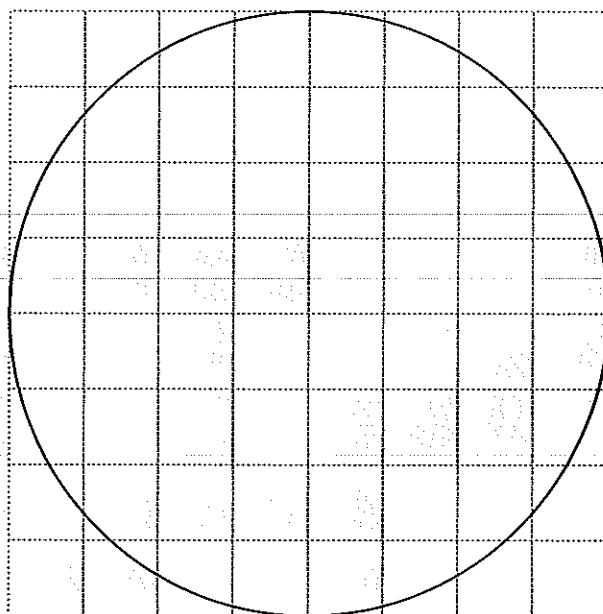
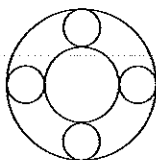
1	2		5		2
	1	7,		3	
		5,	4	3	0

2		3,			
	2	7,	5	2	
	2		1	8	

5 Gebruik je passer.



a Teken deze figuur na, maar groter.

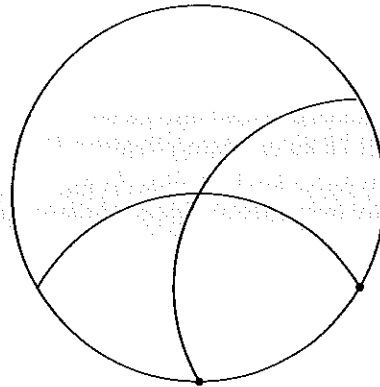
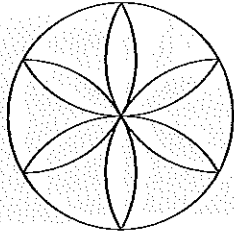




Naam:

Nr.

b Teken de figuur die je links ziet over, maar groter.
We verklappen hoe je moet beginnen!



6 Wie ben ik?

- Ik ben 3 °C minder dan -4 °C.
- Ik ben 4d groter dan 1,998.
- Ik ben een veelvoud van elk getal.
- Ik ben het kleinste gehele getal met 5 verschillende cijfers.
- Ik ben 8h kleiner dan 2,05.
- Ik ben een veelvoud van 9 en lig tussen 100 en 110.
- Ik ben een deler van elk getal.
- Ik ben het grootste gehele getal met 5 verschillende cijfers.
- Ik ben zowel deelbaar door 2 als door 5 en lig tussen 34 en 44.
- Ik ben 5 minder dan 30 000.



7 Vul de rekenrupsen verder aan.

